



Bir otobüs, 1.duraktan 14, 2.duraktan 15, 3.duraktan 24 yolcu almıştır. Otobüste kaç yolcu vardır?



Çözüm:



Cafer'in 18 lirası vardır. Adem'in parası Cafer'in parasından 8 lira fazla ise ikisinin paraları toplamı kaçtır?



Çözüm:



Mehmet 8, ablası ise 12 yaşındadır. 3 sene sonra Mehmet ve ablasının yaşları toplamı kaç olur?



Çözüm:



Esmâ'nın 13 cevizi vardır. Ahmet'in cevizleri ise 2 desteye eşittir. İkisinin toplam kaç cevizi vardır?



Çözüm:



Bahçemizde 30 kiraz ağacı, kiraz ağaçlarından 8 eksik vişne ağacı vardır. Bahçemizdeki toplam ağaç sayısı kaçtır?



Çözüm:



24 sayısı ile 50 sayısına yuvarlanabilen en küçük sayının toplamı kaçtır?



Çözüm:



Annem 54 metre kumaşın 15 metresini ceket, 13 metresini pantolon için kullandı. Geriye kaç metre kumaş kaldı?



Çözüm:



Oytun, öğretmeninin verdiği 45 sayfalık hikaye kitabının önce 12, sonra 19 sayfasını okudu. Oytun'un okuyacağı kaç sayfa vardır?



Çözüm:



Bir torbada 12 yeşil, 29 mavi, 15 tane de kırmızı boncuk bulunmaktadır. Bu torbada kaç boncuk vardır?



Çözüm:



4 onluk 7 birlikten oluşan sayıya hangi sayıyı eklersem sonuç 80 olur?



Çözüm:



Eksilen 54, çıkan ise iki basamaklı en küçük sayıdır. Buna göre fark kaçtır?



Çözüm:



Ağaçta 34 kuş vardı. Önce 1 düzine kadarı sonra ise 8 tanesi uçtu. Ağaçta kaç tane kuş kalmıştır?



Çözüm:



6 onluk 9 birlikten oluşan sayı ile 2 onluk 7 birlikten oluşan sayının toplamında kaç onluk vardır?



Çözüm:



Onlar basamağı 2 olan en büyük sayı ile 3 onluktan oluşan sayının toplamı kaçtır?



Çözüm:



Ayça'nın evi ile okulu arası 58 adım, okul ile market arası 32 adımdır. Ayçe önce okula, sonra markete gittiğine göre kaç adım yürümüştür?



Çözüm:








37 cm olan bir çam fidanı toprağa ekiliyor, her yıl 8 cm uzayan fidanın 2 yıl sonraki uzunluğu kaç santimetre olur?



Çözüm:

 Aşağıdaki problemleri görselleri ve fiyatları verilen nesnelere bakarak çözelim.

	 33 TL	 45 TL	 18 TL	 24 TL
	 12 TL	 29 TL	 37 TL	 39 TL

1 Bere ve kazak alan biri kaç TL öder?

 Çözüm:

2 Çanta ve saat alan biri 100 TL verirse kaç lira para üstü alır?

 Çözüm:

3 Defter ve raketin fiyatları toplamının en yakın olduğu anlık kaçtır?

 Çözüm:

4 Boya kalemleri ve terliğin fiyatları farkı 1 düzineden kaç eksiktir?

 Çözüm:

5 Boya kalemleri ve saat alan biri satıcıdan 7 lira para üstü alığına göre satıcıya kaç TL ödemiştir?

 Çözüm:

6 50 lirası olan Anıl, çanta ve kazak almak istiyor. Anıl'ın kaç liraya daha ihtiyacı vardır?

 Çözüm: